



# Les enquêtes de Titi et Matou



## *Parcours mathématique* *du CP au CM2*

### **Fichier « Création »**

#### *Enquête I*

Tu es libre de créer des énigmes comme celle que tu viens de résoudre. **N'oublie surtout pas d'écrire une ou plusieurs solutions avec chaque énigme que tu proposes !!!**

[lesenquetesdetitietmatou@free.fr](mailto:lesenquetesdetitietmatou@free.fr)

Tu as le droit de créer plusieurs énigmes d'un seul et même niveau, par exemple, tu peux créer 5 énigmes de niveau « Abeille ».



# *Les enquêtes de Titi et Matou*

« Les grottes de nombres ...

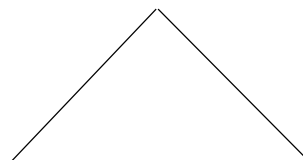
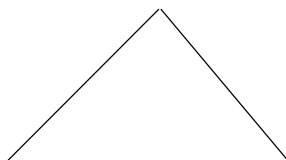
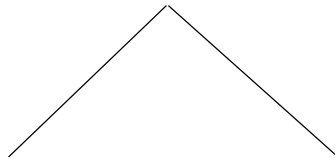
de la vallée de la Brague »

**Mes créations suite à l'énigme I**

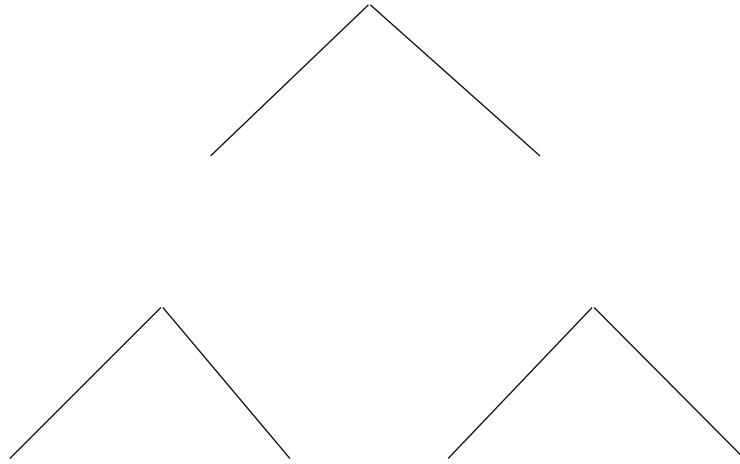
*Mon prénom* : .....

*Ma ville* : .....

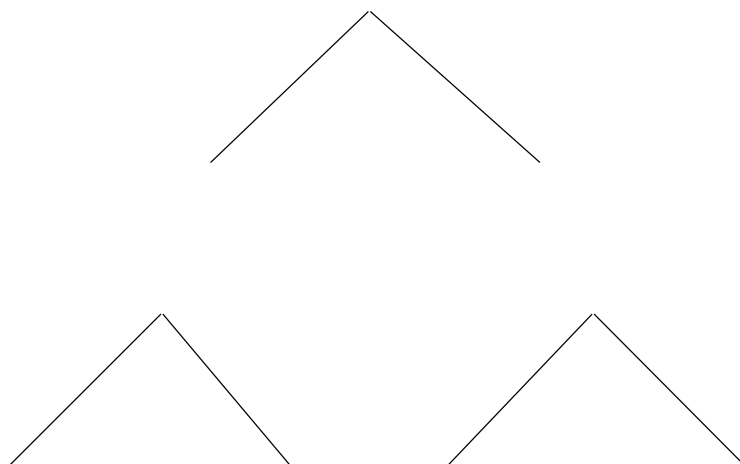
**Mon énigme 1 - Niveau ...**



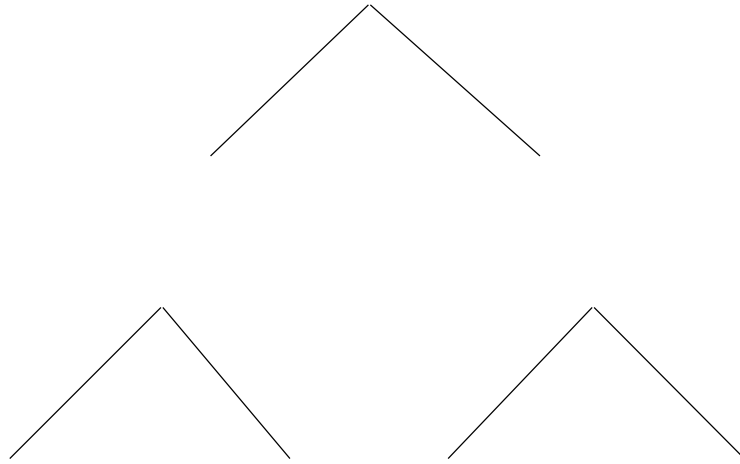
**Mon énigme 2 - Niveau ...**



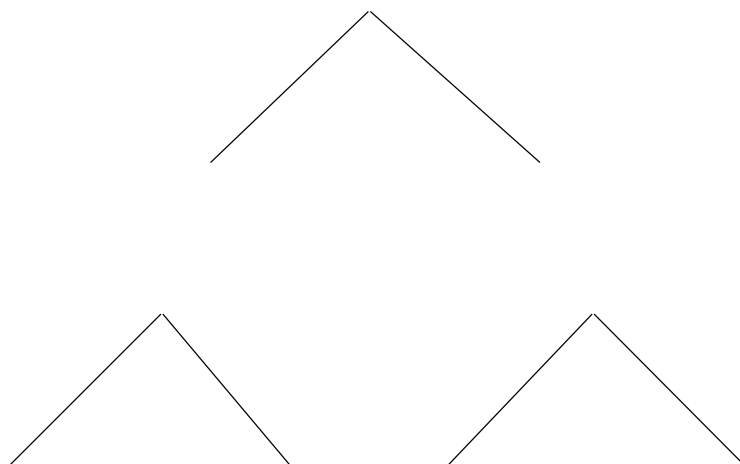
**Mon énigme 3 - Niveau ...**



**Mon énigme 4 - Niveau ...**

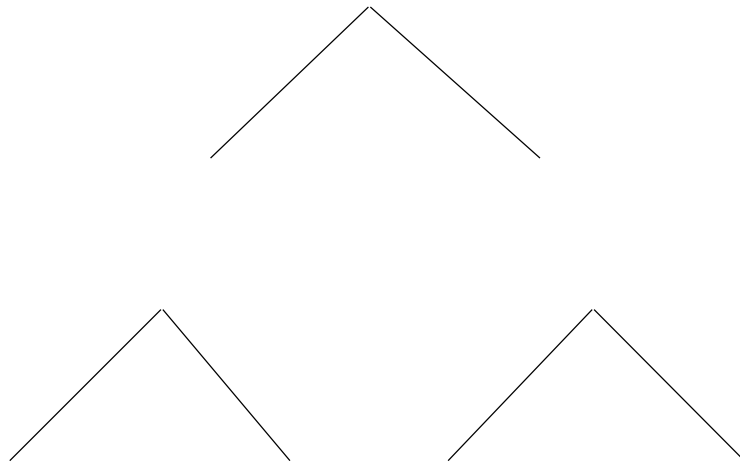


**Mon énigme 5 - Niveau ...**

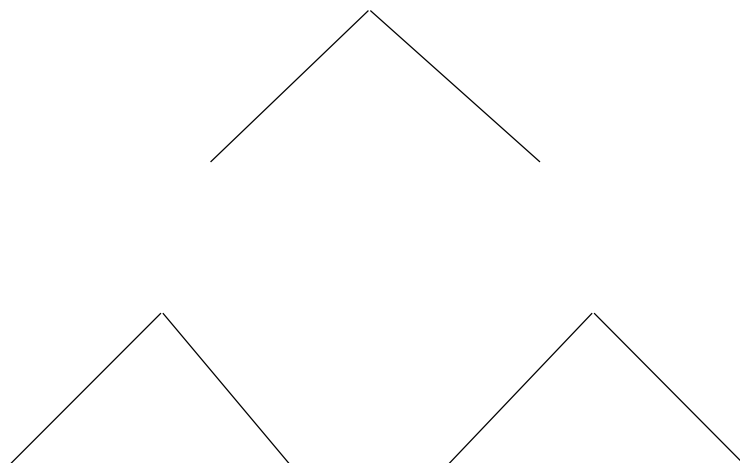


## Mes corrections

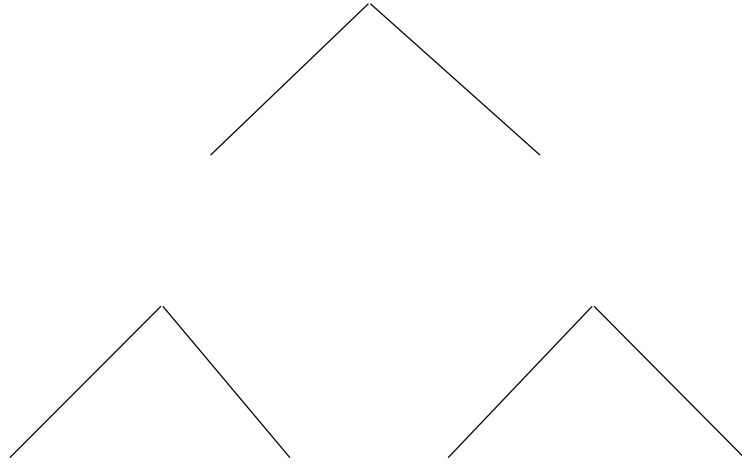
### Ma correction pour l'énigme 1 - Niveau ...



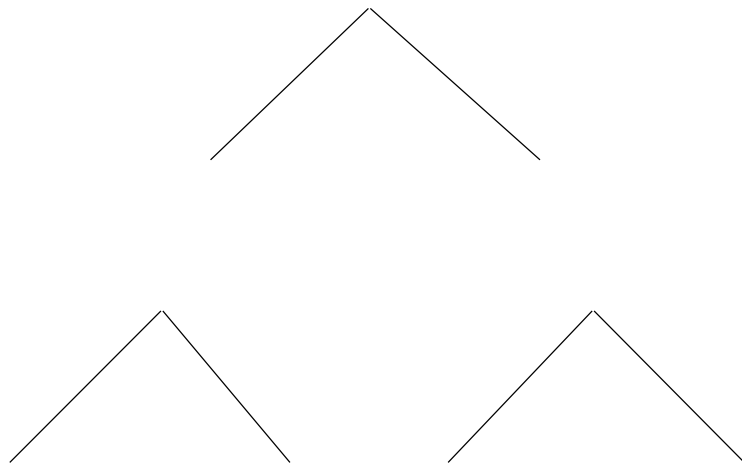
### Ma correction pour l'énigme 2 - Niveau ...



**Ma correction pour l'énigme 3 - Niveau ...**



**Ma correction pour l'énigme 4 - Niveau ...**



**Ma correction pour l'énigme 5 - Niveau ...**

