



Les enquêtes de Titi et Matou



Site internet dédié

[Les enquêtes de Titi et Matou](#)

Parcours mathématique du CP au CM2

Fichier « Patte à patte » Enquête R

Voici le fichier **PATTE A PATTE**. En effet, **Mimi** veut te donner **un peu la patte**. Une fois le travail accompli, tu pourras reprendre le fichier **PATTE À PATTE**, puis le fichier **ENIGME**.



Les enquêtes de Titi et Matou

Patte à patte R

« Les tableaux géométriques ...

du val de Chanan »

Eprouves-tu quelques difficultés dans le fichier
PATTE À PATTE ???

Ce n'est pas grave. **Mimi te donne la patte** et
t'invite à faire appel au fichier **PATTE A
PATTE**.



**Mais, attention, le fichier « Patte à patte » est un fichier JOKER
que tu dois utiliser le moins souvent possible.**

Ensuite, tu reprendras l'enquête dans le fichier PATTE À PATTE,
puis dans le fichier ENIGME avec Titi et Matou ...

Et, si nécessaire, tu pourras même poser des questions (si tu en as)
et/ou envoyer ta ou tes réponses à l'adresse suivante pour obtenir
un avis :

laurent.giauffret@ac-nice.fr

*(Conseiller Pédagogique Départemental « Mathématiques et
Sciences » auprès de la DSDEN des Alpes-Maritimes)*

Toutes les données sont disponibles sur le site :

[Les enquêtes de Titi et Matou](#)

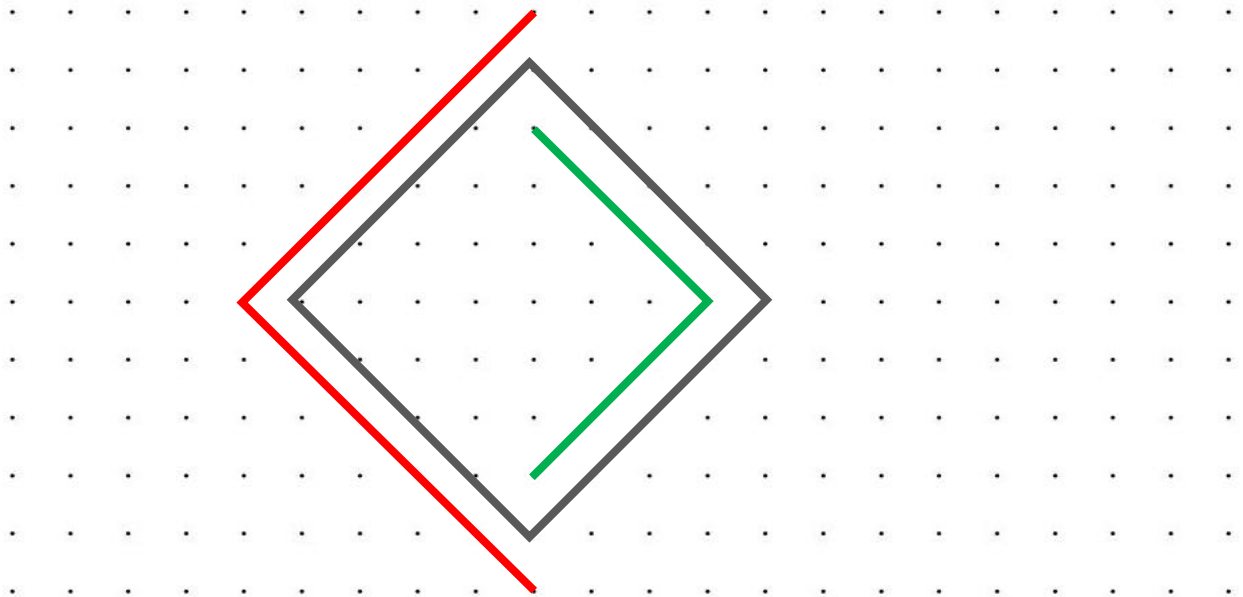


Patte à patte 1 - Niveau « Abeille »



Mimi a commencé à tracer des parties des figures demandées ... A toi de continuer ...

« Sur la feuille pointée, construis **une composition de trois carrés inclus les uns dans les autres** : l'un de dimensions plus grandes que le carré gris, l'autre de dimensions plus petites que le carré gris. »

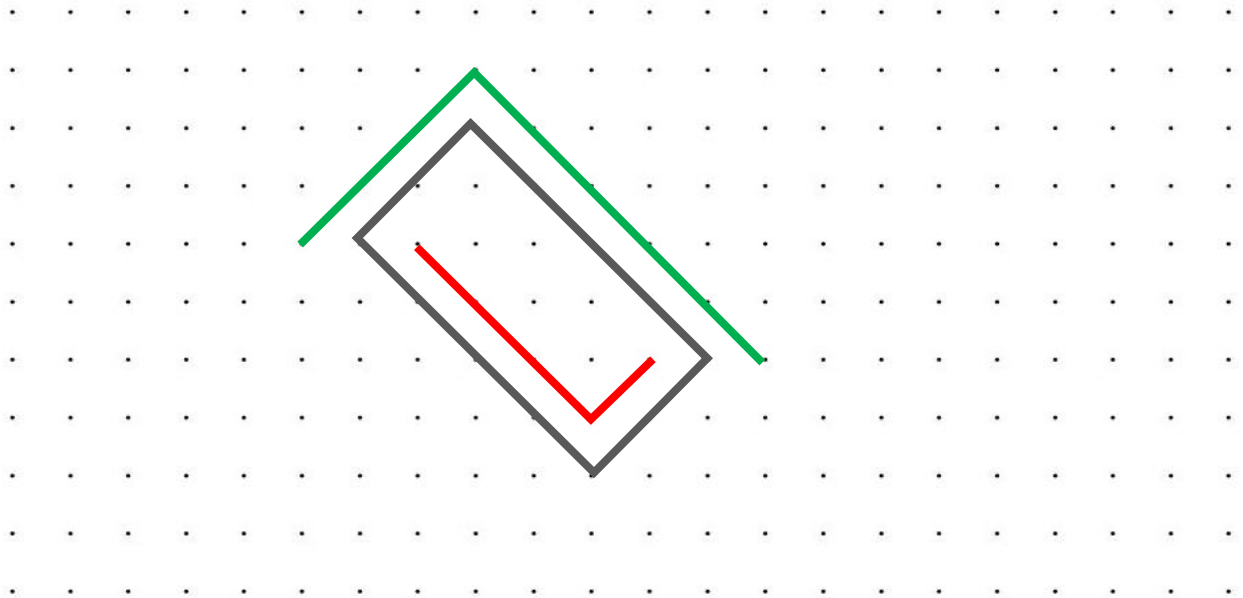




Patte à patte 2 - Niveau « Lièvre »

Mimi a commencé à tracer des parties des figures demandées ... A toi de continuer ...

« Sur la feuille pointée, construis **une composition de trois rectangles inclus les uns dans les autres** : l'un de dimensions plus grandes que le rectangle gris, l'autre de dimensions plus petites que le rectangle gris. »

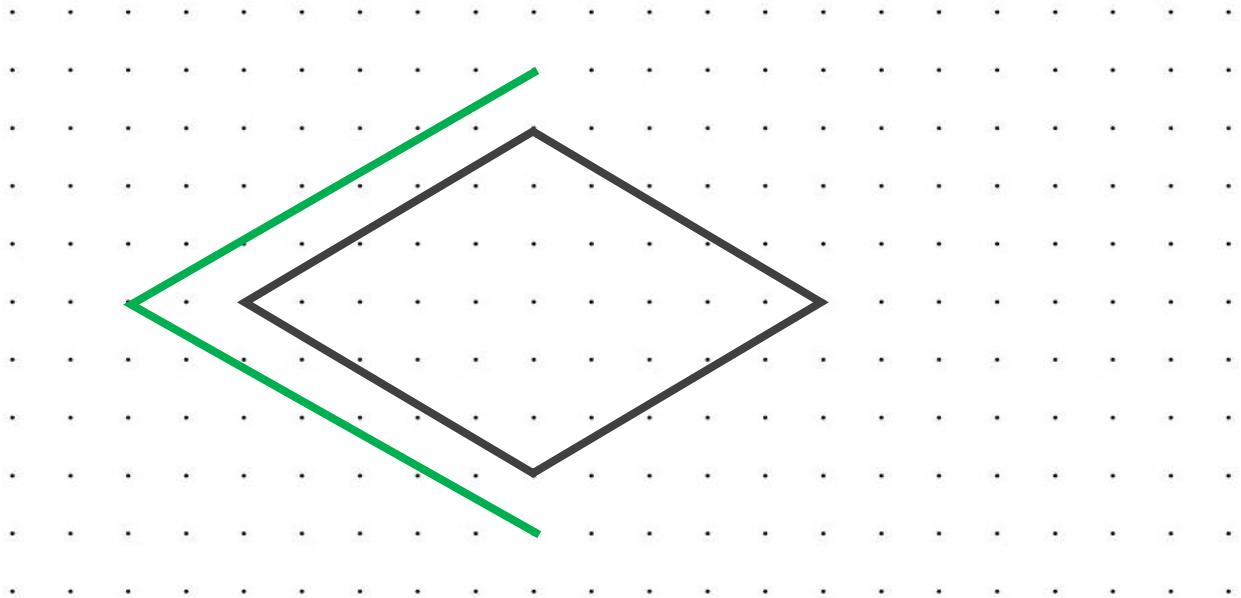




Patte à patte 3 - Niveau « Chevreuil »

Mimi a commencé à tracer des parties des figures demandées ... A toi de continuer ...

« Sur la feuille pointée, construis **une composition de trois losanges inclus les uns dans les autres** : l'un de dimensions plus grandes que le losange gris, l'autre de dimensions plus petites que le losange gris. »



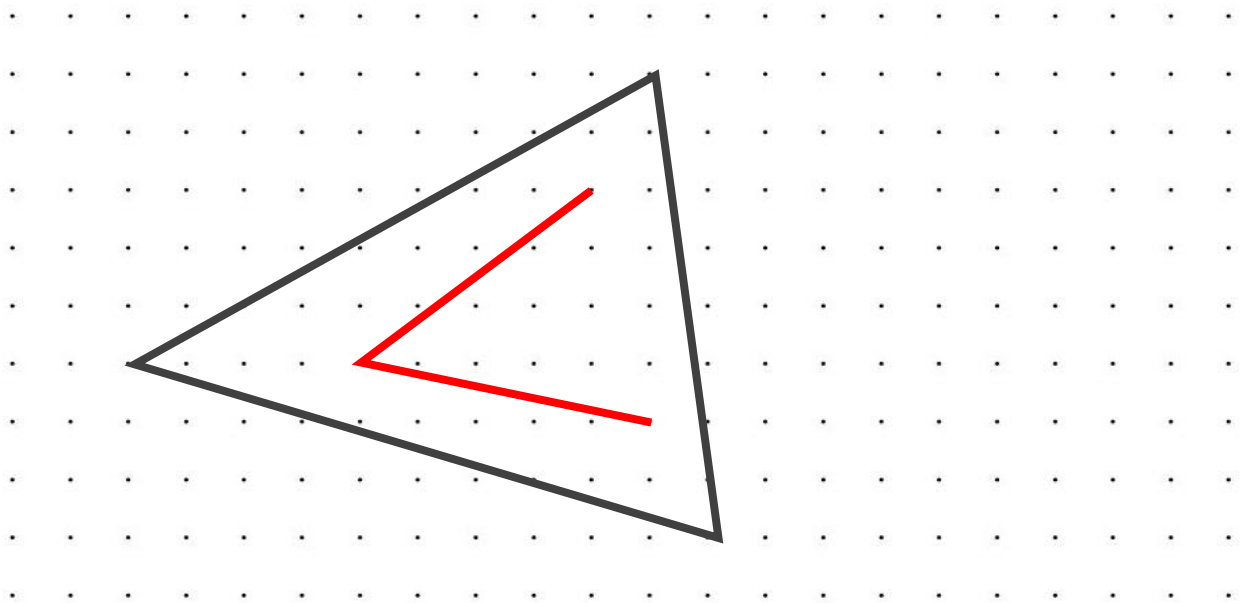


Pate à patte 4 - Niveau « Buse »



Mimi a commencé à tracer des parties des figures demandées ... A toi de continuer ...

« Sur la feuille pointée, construis **une composition de trois triangles quelconques inclus les uns dans les autres** : l'un de dimensions plus grandes que le triangle gris, l'autre de dimensions plus petites que le triangle gris. »





Patte à patte 5 - Niveau « Loup »



Mimi a commencé à tracer des parties des figures demandées ... A toi de continuer ...

« Sur la feuille pointée, construis **une composition de trois quadrilatères quelconques inclus les uns dans les autres** : l'un de dimensions plus grandes que le quadrilatère gris, l'autre de dimensions plus petites que le quadrilatère gris. »

